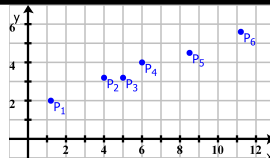
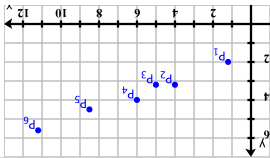


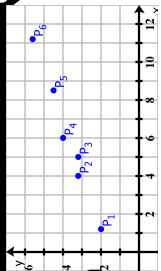
Welche Bedingungen müssen Ihrer Meinung nach erfüllt sein, dass eine Gerade die Punktwolke bestmöglich beschreibt?



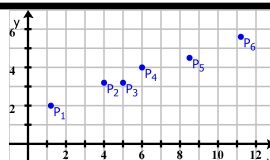
Welche Bedingungen müssen Ihrer Meinung nach erfüllt sein, dass eine Gerade die Punktwolke bestmöglich beschreibt?



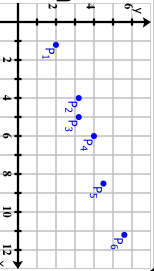
Welche Bedingungen müssen Ihrer Meinung nach erfüllt sein, dass eine Gerade die Punktwolke bestmöglich beschreibt?



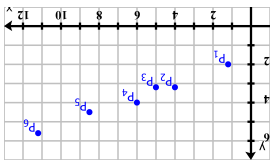
Welche Bedingungen müssen Ihrer Meinung nach erfüllt sein, dass eine Gerade die Punktwolke bestmöglich beschreibt?



Welche Bedingungen müssen Ihrer Meinung nach erfüllt sein, dass eine Gerade die Punktwolke bestmöglich beschreibt?



Welche Bedingungen müssen Ihrer Meinung nach erfüllt sein, dass eine Gerade die Punktwolke bestmöglich beschreibt?



Welche Bedingungen müssen Ihrer Meinung nach erfüllt sein, dass eine Gerade die Punktwolke bestmöglich beschreibt?



Dieses Werk ist lizenziert unter einer [Creative Commons Namensnennung 4.0 International Lizenz](https://creativecommons.org/licenses/by/4.0/).

2016 Henrik Horstmann