

Gleichungen

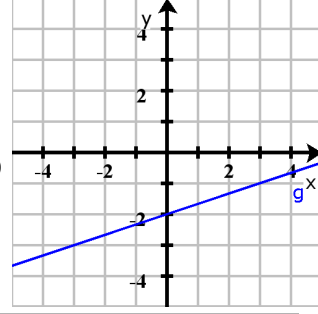
$$P_1(-3 \mid -3)$$

$$P_2(-5 \mid -2)$$

Geraden

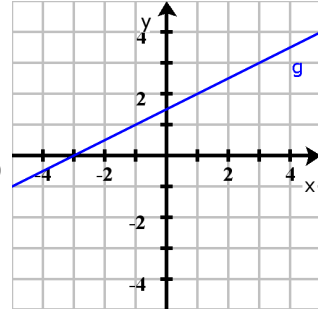
$$g: y = -\frac{5}{2}x + \frac{4}{3}$$

2018 Henrik Horstmann

Gleichungen**Geraden**

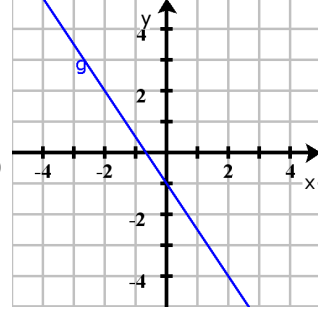
$$g: y = -4x - 2$$

2018 Henrik Horstmann

Gleichungen**Geraden**

$$g: y = 1$$

2018 Henrik Horstmann

Gleichungen**Geraden**

$$g: y = x + 3$$

2018 Henrik Horstmann

Gleichungen

$$P(0 \mid -5)$$

$$m = -\frac{7}{3}$$

Geraden

$$g: y = -\frac{1}{2}x - 1$$

2018 Henrik Horstmann

Gleichungen

$$P\left(-\frac{5}{2} \mid 1\right)$$

$$m = \frac{1}{2}$$

Geraden

$$g: y = -\frac{5}{2}x + \frac{1}{6}$$

2018 Henrik Horstmann

Gleichungen

$$P\left(\frac{4}{3} \mid -2\right)$$

$$m = -\frac{5}{2}$$

Geraden

$$g: y = 5x + 18$$

2018 Henrik Horstmann

Gleichungen

$$P_1\left(3 \mid -\frac{3}{2}\right)$$

$$P_2\left(4 \mid -\frac{5}{4}\right)$$

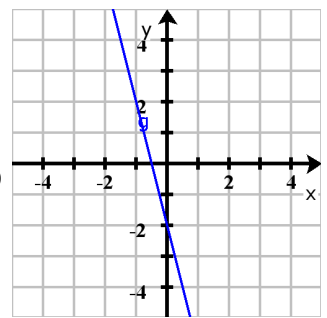
Geraden

$$g: y = 2$$

2018 Henrik Horstmann



Gleichungen



Geraden

$$g: y = \frac{1}{2}x + \frac{3}{2}$$

2018 Henrik Horstmann

Gleichungen

$$P_1(0 \mid 4)$$

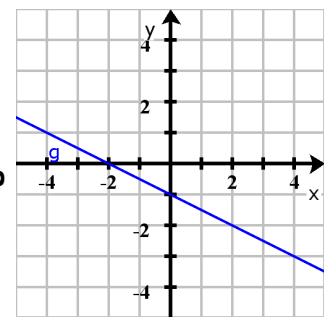
$$P_2\left(\frac{9}{2} \mid 2\right)$$

Geraden

$$g: y = \frac{1}{4}x - \frac{9}{4}$$

2018 Henrik Horstmann

Gleichungen



Geraden

$$g: y = \frac{1}{3}x - 2$$

2018 Henrik Horstmann

Gleichungen

$$P_1(-1 \mid 2)$$

$$P_2\left(\frac{1}{2} \mid 2\right)$$

Geraden

$$g: y = -\frac{1}{2}x - \frac{9}{2}$$

2018 Henrik Horstmann

Gleichungen

$$P_1(-3 \mid 0)$$

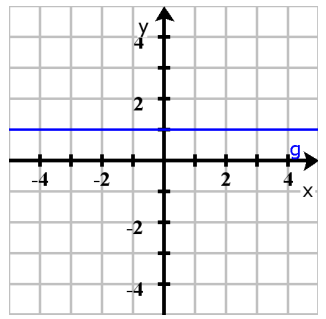
$$P_2(-4 \mid -1)$$

Geraden

$$g: y = -\frac{4}{9}x + 4$$

2018 Henrik Horstmann

Gleichungen



Geraden

$$g: y = -\frac{3}{2}x - 1$$

2018 Henrik Horstmann

Gleichungen

$$P(-3 \mid 3)$$

$$m = 5$$

Geraden

$$g: y = \frac{1}{2}x + \frac{9}{4}$$

2018 Henrik Horstmann

Gleichungen

$$P\left(-1 \mid \frac{8}{3}\right)$$

$$m = -\frac{5}{2}$$

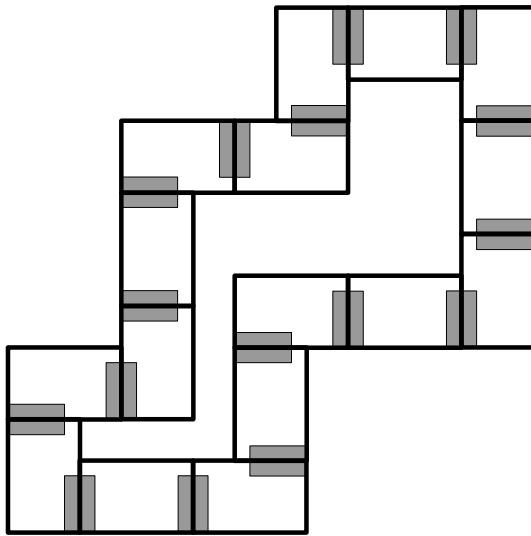
Geraden

$$g: y = -\frac{7}{3}x - 5$$

2018 Henrik Horstmann



Domino Lösungsfigur:



Anleitung:

1. Domino Steine ausschneiden.
2. Mit einer beliebigen Dominokarte beginnen und die unten stehende Aufgabe lösen.
3. Die Dominokarte mit der passenden Lösung (oben stehend) entsprechende den Markierungen an die Dominokarte mit der Aufgabe anlegen.
4. Die unten stehende Aufgabe auf der zuletzt angelegten Dominokarte lösen. Mit Schritt 3 fortfahren, bis alle Dominokarten aufgebraucht sind.
5. Die Form der gelegten Dominokarten muss der oben dargestellten Lösungsfigur entsprechen, dann sind alle Aufgaben richtig gelöst.

Domino 007



Dieses Werk ist lizenziert unter einer [Creative Commons Namensnennung 4.0 International Lizenz](https://creativecommons.org/licenses/by/4.0/).

2018 Henrik Horstmann